

Aplicații ale numerelor complexe în geometrie, utilizând Geogebra

"Mathematics consists in proving the most obvious thing in the least obvious way." George Polya

Autor: **Diana-Florina Haliță**
diana.halita@gmail.com

Instituția: *Universitatea "Babeș-Bolyai" Cluj-Napoca*
Facultatea de Matematică și Informatică
Specializarea Matematică Didactică

Coordonator științific: *Conf. dr. Vălcan Dumitru*

13 iunie 2014



Cuprinsul prezentării

- 1 Introducere
- 2 Afixul unui punct care împarte un segment într-un raport dat
- 3 Condiții de coliniaritate, perpendicularitate și conciclicitate
- 4 Triunghiuri asemenea
- 5 Ecuația dreptei și a cercului
- 6 Produsul real și produsul complex a două numere complexe
- 7 Transformări geometrice
- 8 Aplicații
- 9 Evaluare
- 10 Bibliografie



Introducere

SCOP: *Extinderea ariei de cunoaștere a elevilor în legătură cu numerele complexe, și formarea priceperilor și deprinderilor în rezolvarea unor probleme de geometrie cu ajutorul numerelor complexe.*

PAȘI:

- 1** *Reamintirea cunoștințelor legate de numerele complexe.*
- 2** *Prezentarea proprietăților principale ale numerelor complexe*
- 3** *Definirea cu ajutorul numerelor complexe a câtorva termeni din geometrie.*
- 4** *Prezentarea unor aplicații, exerciții și probleme propuse pentru teme individuale și pe grupe*
- 5** *Evaluarea cunoștințelor acumulate de studenți.*



Afixul unui punct care împarte un segment într-un raport dat

TEOREMĂ

1 $A(a), B(b), M(z), M \in [AB] \text{ a.}\hat{=} \frac{AM}{MB} = k > 0.$

Atunci $z = \frac{1}{k+1} \cdot a + \frac{k}{k+1} \cdot b.$

2 $A(a), B(b), M(z), B \in [AM] \text{ a.}\hat{=} \frac{AM}{MB} = k < 0.$

Atunci $z = \frac{1}{k+1} \cdot a + \frac{k}{k+1} \cdot b.$

3 $A(a), B(b), M(z), A \in [MB] \text{ a.}\hat{=} \frac{AM}{MB} = k < 0.$

Atunci $z = \frac{1}{k+1} \cdot a + \frac{k}{k+1} \cdot b.$



Condiții de coliniaritate, perpendicularitate și conciclicitate

TEOREMĂ

1 $M_1(z_1), M_2(z_2), M_3(z_3)$ sunt coliniare $\Leftrightarrow \frac{z_3 - z_1}{z_2 - z_1} \in \mathbb{R}^*$.

2 $M_1M_2 \perp M_3M_4 \Leftrightarrow \frac{z_1 - z_2}{z_3 - z_4} \in i \cdot \mathbb{R}^*$.

3 *Biraportul a patru numere complexe:*

$$(z_1, z_2, z_3, z_4) = \frac{z_1 - z_3}{z_2 - z_3} : \frac{z_1 - z_4}{z_2 - z_4}$$

4 $M_1(z_1), M_2(z_2), M_3(z_3), M_4(z_4)$ sunt coliniare sau conciclice $\Leftrightarrow (z_1, z_2, z_3, z_4) \in \mathbb{R}^*$.



Triunghiuri asemenea

TEOREMĂ

Fie $A_1(a_1), A_2(a_2), A_3(a_3), B_1(b_1), B_2(b_2), B_3(b_3)$. Se dau triunghiurile $A_1A_2A_3$ și $B_1B_2B_3$ la fel orientate.

U.a.s.e:

1 $A_1A_2A_3 \sim B_1B_2B_3$

2
$$\frac{a_2 - a_1}{a_3 - a_1} = \frac{b_2 - b_1}{b_3 - b_1}$$

3
$$\begin{vmatrix} 1 & 1 & 1 \\ a_1 & a_2 & a_3 \\ b_1 & b_2 & b_3 \end{vmatrix} = 0.$$



Triunghiuri asemenea

TEOREMĂ

Fie $M_1(z_1)$, $M_2(z_2)$, $M_3(z_3)$. U.a.s.e:

1 *triunghiul $M_1M_2M_3$ este echilateral*

2 $z_1 \cdot \varepsilon + z_2 \cdot \varepsilon^2 + z_3 = 0;$

3
$$\begin{vmatrix} 1 & 1 & 1 \\ z_1 & z_2 & z_3 \\ z_2 & z_3 & z_1 \end{vmatrix} = \begin{vmatrix} 1 & 1 & 1 \\ z_2 & z_3 & z_1 \\ z_3 & z_1 & z_2 \end{vmatrix} = \begin{vmatrix} 1 & 1 & 1 \\ z_3 & z_1 & z_2 \\ z_1 & z_2 & z_3 \end{vmatrix} = 0$$

4 $z_1^2 + z_2^2 + z_3^2 = z_1 \cdot z_2 + z_2 \cdot z_3 + z_3 \cdot z_1.$

5
$$\frac{z_2 - z_1}{z_3 - z_2} = \frac{z_3 - z_2}{z_1 - z_3}.$$

6
$$\frac{1}{z - z_1} + \frac{1}{z - z_2} + \frac{1}{z - z_3} = 0, \text{ unde } z = \frac{z_1 + z_2 + z_3}{3}.$$

7 $(z_1 + \varepsilon \cdot z_2 + \varepsilon^2 \cdot z_3) \cdot (z_1 + \varepsilon^2 \cdot z_2 + \varepsilon \cdot z_3) = 0,$



Ecuția dreptei și a cercului

TEOREMĂ

1 *Ecuția generală a unei drepte în plan este:*

$$\bar{a} \cdot \bar{z} + a \cdot z + b = 0, a \in \mathbb{C}^*, b \in \mathbb{R}, z = x + i \cdot y.$$

Pentru $a \neq \bar{a}$ panta dreptei este egală cu $\frac{a + \bar{a}}{a - \bar{a}} \cdot i$.

2 *Condiții de \parallel, \perp, \times pentru drepte:*

$$d_1 : \bar{a}_1 \cdot \bar{z}_1 + a_1 \cdot z_1 + b_1 = 0 \text{ și}$$

$$d_2 : \bar{a}_2 \cdot \bar{z}_2 + a_2 \cdot z_2 + b_2 = 0, a_1 \neq 0, a_2 \neq 0.$$

- $d_1 \parallel d_2 \Leftrightarrow \frac{\bar{a}_1}{a_1} = \frac{\bar{a}_2}{a_2}$
- $d_1 \perp d_2 \Leftrightarrow \frac{\bar{a}_1}{a_1} + \frac{\bar{a}_2}{a_2} = 0$
- d_1, d_2 sunt concurente $\Leftrightarrow \frac{\bar{a}_1}{a_1} \neq \frac{\bar{a}_2}{a_2}$



Ecuatia dreptei și a cercului

TEOREMĂ

3 Ecuatia unei drepte în plan determinată de două puncte

având afixele z_1 și z_2 este:
$$\begin{vmatrix} z_1 & \bar{z}_1 & 1 \\ z_2 & \bar{z}_2 & 1 \\ z & \bar{z} & 1 \end{vmatrix} = 0.$$

4 Condiția de coliniaritate a trei puncte având afixele z_1, z_2, z_3 se justifică repede ca fiind echivalentă cu:

$$\begin{vmatrix} z_1 & \bar{z}_1 & 1 \\ z_2 & \bar{z}_2 & 1 \\ z_3 & \bar{z}_3 & 1 \end{vmatrix} = 0.$$

5 Ecuatia unei drepte care trece prin punctul de afix z_0 paralelă cu dreapta: $d : \bar{a} \cdot \bar{z} + a \cdot z + b = 0$ este

$$z - z_0 = -\frac{\bar{a}}{a} \cdot (\bar{z} - \bar{z}_0).$$



Ecuția dreptei și a cercului

TEOREMĂ

- 6 *Ecuția dreptei date prin punctul de afix z_0 care este perpendiculară pe dreapta $d : \bar{a} \cdot \bar{z} + a \cdot z + b = 0$ este*
$$\bar{d} : z - z_0 = \frac{\bar{a}}{a} \cdot (\bar{z} - \bar{z}_0).$$
- 7 *Afixul piciorului perpendicularei din punctul de afix z_0 pe dreapta $d : \bar{\alpha} \cdot \bar{z} + \alpha \cdot z + \beta = 0$ este*
$$z = \frac{\alpha \cdot z_0 - \bar{\alpha} \cdot \bar{z}_0 - \beta}{2 \cdot \alpha}.$$
- 8 *Distanța de la un punct de afix z_0 la o dreaptă $d : \bar{\alpha} \cdot \bar{z} + \alpha \cdot z + \beta = 0, \alpha \neq 0$ este:*
$$D = \left| \frac{\alpha \cdot z_0 + \bar{\alpha} \cdot \bar{z}_0 + \beta}{2 \cdot \sqrt{\alpha \cdot \bar{\alpha}}} \right|$$



Ecuția dreptei și a cercului

TEOREMĂ

- 9 *Aria triunghiului determinat de trei puncte de afixe z_1, z_2, z_3 este:*

$$A = |\Delta|, \Delta = \frac{i}{4} \cdot \begin{vmatrix} z_1 & \bar{z}_1 & 1 \\ z_2 & \bar{z}_2 & 1 \\ z_3 & \bar{z}_3 & 1 \end{vmatrix}.$$

- 10 *Ecuția unui cerc în plan este:*
 $z \cdot \bar{z} + \alpha \cdot z + \bar{\alpha} \cdot \bar{z} + \beta = 0, \alpha \in \mathbb{C}, \beta \in \mathbb{R}, z = x + y \cdot i.$



Produsul real a două numere complexe

DEFINIȚIE

- Se numește produs real al numerelor complexe a, b , numărul: $a \odot b = \frac{1}{2} \cdot (\bar{a} \cdot b + a \cdot \bar{b})$.

TEOREMĂ

- 1 Dacă $A(a), B(b)$ sunt puncte distincte și diferite de $O(0)$ atunci $a \odot b = 0 \Leftrightarrow OA \perp OB$.
- 2 Numărul $a \odot b$ este egal cu valoarea absolută a puterii originii $O(0)$ față de cercul de diametru AB , unde $A(a), B(b)$ și a, b numere complexe distincte nenule.
- 3 Fie $A(a), B(b), C(c), D(d)$ puncte distincte. U.a.s.e.:
 - $AB \perp CD$
 - $(b - a) \odot (d - c) = 0$
 - $\frac{b - a}{d - c} \in i \cdot \mathbb{R}^*$



Produsul complex a două numere complexe

DEFINIȚIE

- Se numește produs complex al numerelor complexe, nenule și distincte a, b , numărul:

$$a \otimes b = \frac{1}{2} \cdot (\bar{a} \cdot b - a \cdot \bar{b}).$$

TEOREMĂ

- 1 Dacă $A(a), B(b)$ sunt puncte distincte și diferite de $O(0)$ atunci $a \otimes b = 0 \Leftrightarrow O, A, B$ coliniare.

- 2
$$a \otimes b = \begin{cases} 2 \cdot i \cdot A_{\Delta OAB} & , OAB \text{ e direct orientat} \\ -2 \cdot i \cdot A_{\Delta OAB} & , OAB \text{ e invers orientat} \end{cases}$$

- 3
$$A_{\Delta ABC} = \pm \frac{1}{2 \cdot i} \cdot (a \otimes b + b \otimes c + c \otimes a)$$

- 4 Fie $A(a), B(b), C(c)$ puncte distincte. U.a.s.e.:

- A, B, C coliniare
- $(b - a) \otimes (c - a) = 0$
- $a \otimes b + b \otimes c + c \otimes a = 0$



Transformări geometrice

DEFINIȚIE

1 Translația

Fie $b \in \mathbb{C}$. z se translatează cu vectorul b în $z' = z + b$.

2 Rotația

Rotația de centru O și unghi φ are exprimarea: $z' = \alpha \cdot z$, $|\alpha| = 1$ și $\alpha = \cos \varphi + i \cdot \sin \varphi$.

3 Simetria

a) Simetria de centru A are ecuația: $z' = 2 \cdot z_A - z$.
b) Simetria axială în care axa de simetrie este axa OX are ecuația: $z' = \bar{z}$.

4 Omotetia

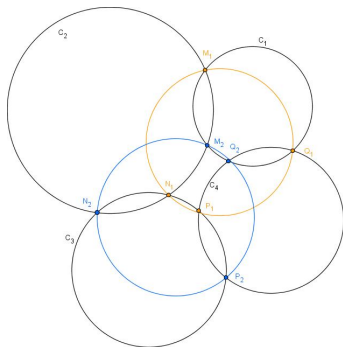
Fie $z_0 \in \mathbb{C}$ și $a \in \mathbb{R}^*$. Prin omotetia de centru z_0 și raport a , z se transformă în $z' = z_0 + a \cdot (z - z_0)$.
Omotetia de centru O și raport a se exprimă prin: $z' = a \cdot z$.



Exercițiul 1

APLICAȚIE

Fie C_1, C_2, C_3, C_4 patru cercuri în plan și M_1, M_2 punctele de intersecție ale lui C_1 cu C_2 , N_1, N_2 punctele de intersecție ale lui C_2 cu C_3 , P_1, P_2 punctele de intersecție ale lui C_3 cu C_4 și Q_1, Q_2 punctele de intersecție ale lui C_4 cu C_1 . Să se demonstreze că M_1, N_1, P_1, Q_1 sunt conciclice $\Leftrightarrow M_2, N_2, P_2, Q_2$ sunt conciclice.



Exercițiul 1

PAȘI:

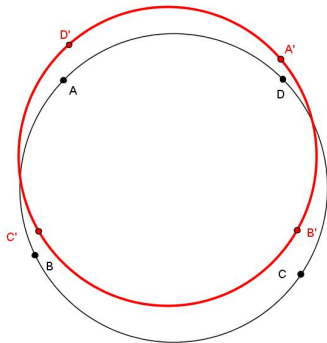
- $M_1, M_2, Q_1, Q_2 \in C_1 \Rightarrow (q_1, m_2, m_1, q_2) \in \mathbb{R}^*$
- $M_1, M_2, N_1, N_2 \in C_2 \Rightarrow (m_1, n_2, n_1, m_2) \in \mathbb{R}^*$
- $N_1, N_2, P_1, P_2 \in C_3 \Rightarrow (n_1, p_2, p_1, n_2) \in \mathbb{R}^*$
- $P_1, P_2, Q_1, Q_2 \in C_4 \Rightarrow (p_1, q_2, q_1, p_2) \in \mathbb{R}^*$
- M_1, N_1, P_1, Q_1 conciclice $\Leftrightarrow R_1 = (m_1, p_1, n_1, q_1) \in \mathbb{R}^*$
- M_2, N_2, P_2, Q_2 conciclice $\Leftrightarrow R_2 = (m_2, p_2, n_2, q_2) \in \mathbb{R}^*$
- Din calcule, $R_1 \in \mathbb{R}^* \Leftrightarrow R_2 \in \mathbb{R}^*$.



Exercițiul 2

APLICAȚIE

Fie $A(z_A), B(z_B), C(z_C), D(z_D)$ patru puncte pe un cerc. Arătați că picioarele perpendicularelor din A, B pe dreapta CD și picioarele perpendicularelor din C, D pe dreapta AB sunt conciclice.



Exercițiul 2

PAȘI:

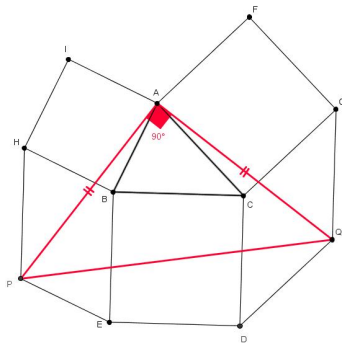
- *considerăm cercul unitate*
- $AB : z + a \cdot b \cdot \bar{z} - a - b = 0$ și
 $CD : z + c \cdot d \cdot \bar{z} - c - d = 0$
- *afixele picioarelor perpendicularelor din A și B pe CD sunt A' , respectiv B' :*
 $\Rightarrow a' = \frac{1}{2} \cdot (a + c + d - \bar{a} \cdot c \cdot d)$ și
 $b' = \frac{1}{2} \cdot (b + c + d - \bar{b} \cdot c \cdot d)$
- *afixele picioarelor perpendicularelor din C și D pe AB sunt C' , respectiv D' :*
 $\Rightarrow c' = \frac{1}{2} \cdot (c + a + b - \bar{c} \cdot a \cdot b)$ și
 $d' = \frac{1}{2} \cdot (d + a + b - \bar{d} \cdot a \cdot b)$
- A', B', C', D' sunt conciclice $\Leftrightarrow (a', b', c', d') \in \mathbb{R}^*$



Exercițiul 3

APLICAȚIE

Se construiesc în exteriorul triunghiului ABC pătratele $BCDE, CAFG, ABHI$. Fie $GCDQ$ și $EBHP$ paralelograme. Să se demonstreze că triunghiul APQ este isoscel.



Exercițiul 3

PAȘI:

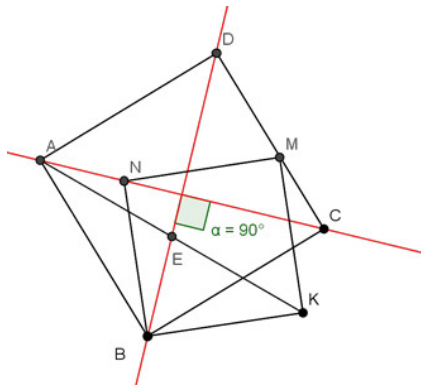
- $E = R_{B,270^\circ}(C) \Leftrightarrow e = b(1 + i) - c \cdot i$
- $H = R_{B,90^\circ}(A) \Leftrightarrow h = b(1 - i) + a \cdot i$
- $D = R_{C,90^\circ}(B) \Leftrightarrow d = c(1 - i) + b \cdot i$
- $G = R_{C,270^\circ}(A) \Leftrightarrow g = c(1 + i) - a \cdot i$
- $HBEP$ paralelogram $\Leftrightarrow p = b - c \cdot i + a \cdot i$
- $CGQD$ paralelogram $\Leftrightarrow q = c + b \cdot i - a \cdot i$
- $AP = |p - a| = |b - c \cdot i + a \cdot i - a|$
- $AQ = |q - a| = |c + b \cdot i - a \cdot i - a| = |i| \cdot AP = AP$
 $\Rightarrow \Delta ABC$ isoscel



Exercițiul 4

APLICAȚIE

Pătratele BCDA și BKMN au vârful comun B și sunt la fel orientate. Să se demonstreze că mediana BE a triunghiului ABK este perpendiculară pe CN.



Exercițiul 4

PAȘI:

- $B(0)$, $C(c)$ și $K(k)$.
- $A = R_{B, \frac{\pi}{2}}(C) \Leftrightarrow A(ci)$.
- $BCDA$ pătrat $D(a + c - b) = D(c + ci)$.
- $N = R_{B, \frac{\pi}{2}}(K) \Leftrightarrow N(ki)$.
- $BKMN$ pătrat $M(n + k - b) = D(k + ki)$.
- E este mijlocul laturii $AK \Leftrightarrow E\left(\frac{ci + k}{2}\right)$.
- $BE \perp CN \Leftrightarrow (e - b) \odot (n - c) = 0$



Evaluare

DEFINIȚIE

Evaluarea este o componentă integrată a procesului de învățământ, alături de predare și învățare, care vizează măsurarea, verificarea nivelului de însușire a cunoștințelor de către elev și notarea acestuia.

METODE DE EVALUARE:

1 evaluare orală :

- *întrebări teoretice*
- *rezolvarea de probleme la tablă*
- *verificarea muncii individuale, a temelor și a proiectelor*

2 evaluare scrisă:

- *test de verificare*
- *lucrare de control*



Test de verificare

Timp de lucru 50 de minute

- 1 (1.5p) *Pe laturile patrulaterului ABCD se construiesc în exterior triunghiurile dreptunghice isoscele AMB, BNC, CPD, DQA. Să se arate că $MP \perp NQ$.*
- 2 (1.5p) *Dacă $ABC \sim A'B'C'$ și O în plan, iar A_1 vârful $\Delta AA'A_1$, B_1 este vârful $\Delta BB'B_1$ și C_1 vârful $\Delta CC'C_1$ cu centrul de greutate O , atunci $A_1B_1C_1 \sim ABC$.*
- 3 (3p) *Fie ΔABC și $\Delta A_1B_1C_1$ a.î.
 $A_1 \in BC$, $B_1 \in CA$, $C_1 \in AB$ și le împart pe acestea în raportul k . Să se arate că ΔABC și $\Delta A_1B_1C_1$ au același centru de greutate.*
- 4 (3p) *Enunțați și demonstrați proprietatea referitoare la conciclicitatea a patru puncte distincte două câte două.*

Se acordă 1 punct din oficiu. Succes!



Test de evaluare

Toate subiectele sunt obligatorii.

Se acordă 1p din oficiu.

Timp de lucru : 1h

- 1 (1p) Alegeți varianta corectă și motivați răspunsul:
Centrul de greutate al unui triunghi cu vârfurile $A(a), B(b), C(c)$ are afixul: a) $a + b + c$
b) $\frac{a + b + c}{2}$ c) $\frac{a + b + c}{3}$
- 2 (2p) Enunțați și demonstrați cu ajutorul numerelor complexe teorema lui Pappus.
- 3 (1p) Scrieți o condiție necesară și suficientă pentru ca un triunghi ABC să fie echilateral
- 4 (0.5p) Dreapta lui Simson este dreapta formată din

.....



Test de evaluare

- 5 (2p) Fie O și H centrul cercului circumscris, respectiv ortocentrul triunghiului ABC , iar Q simetricul lui H față de O . Fie T_1, T_2, T_3 centrele de greutate ale triunghiurilor BCQ, CAQ, ABQ . Să se demonstreze că:

$$AT_1 = BT_2 = CT_3 = \frac{4}{3} \cdot OA$$

- 6 (2p) Fie punctele $A(a), B(b), C(c)$ a.î. $a + b + c \neq 0$ și punctele $M(a^2 + a \cdot b + a \cdot c), N(b^2 + b \cdot c + b \cdot a), P(c^2 + c \cdot a + c \cdot b)$. Să se găsească o relație între triunghiurile MNP și ABC .

- 7 (0.5p) Stabiliți dacă este adevărat sau fals și justificați răspunsul:

Punctele $A(a), B(b), C(c)$ două câte două distincte sunt coliniare dacă și numai dacă $\frac{z_3 - z_1}{z_2 - z_1} \in \mathbb{R}^*$



Metoda R.A.I.

- metoda se poate folosi la începutul lecției pentru a verifica cunoștințele elevilor

APLICAȚIE

- Primul elev întreabă care este afixul mijlocului unui segment $[AB]$, iar următorul răspunde: $\frac{a + b}{2}$*
- Al doilea elev continuă și întreabă care este afixul centrului de greutate al unui triunghi ABC . Cel întrebat răspunde cu: $\frac{a + b + c}{3}$.*
- Al treilea elev poate întreba care este biraportul a patru numere, iar cel întrebat va răspunde: $\frac{z_1 - z_3}{z_2 - z_3} = \frac{z_1 - z_4}{z_2 - z_4}$.*



Metoda 3-2-1

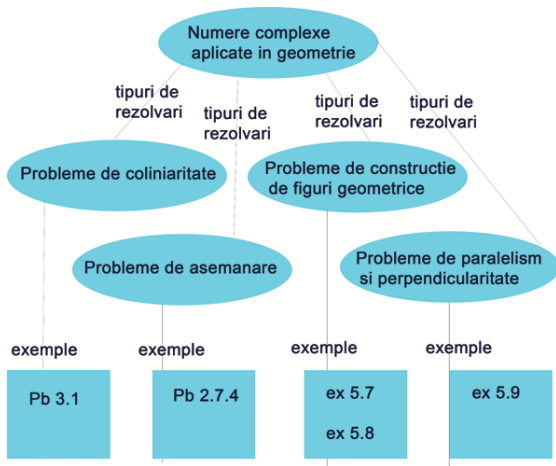
- evaluare a procesului de predare-învățare după câteva ore de curs
- elevii scriu: 3 concepte din ce au învățat, 2 idei despre care ar dori să învețe mai multe în continuare și o capacitate pe care au dobândit-o în urma activității de predare-învățare.

APLICAȚIE







- *3: coliniaritatea a trei puncte , perpendicularitatea a două drepte, conciclicitatea a 4 puncte*
- *2: transformări geometrice, produsul real al numerelor complexe*
- *1: rezolvarea problemelor de geometrice prin metode ale Analizei Complexe*



Harta conceptuală



Bibliografie

-  T. Andreescu, D. Andrica, *Complex numbers from A to ... Z*. Birkhauser, Boston(2005)
-  D. Andrica, N. Bişboacă, *Numere Complexe. Probleme rezolvate din manualele alternative*. Editura Millenium(2000)
-  L.S. Hahn, *Complex Numbers&Geometry*.The Mathematichal Association of America(1984)
-  N.N. Mihăileanu, *Utilizarea numerelor complexe în geometrie*. Editura Tehnică, Bucureşti (1968)
-  P.S. Modenov, *Problems in Geometry*. Mir Publishers - Moscow(1981)
-  G. Sălăgean, *Geometria planului complex*, Editura ProMedia Plus, Cluj-Napoca(1997)

